



Задания II этапа городской олимпиады по оригами- 2025 для 1-2 классов

Задание 1. (26.)

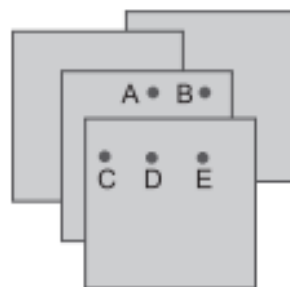
Какой путь самый длинный?



Задание 2. (26.)

Четыре одинаковых листа лежат, как на картинке. Миша хочет пробить дыру, которая проходит через все четыре листа. В какой точке Миша должен пробить дыру?

(А) А (Б) В (В) С (Г) D (Д) Е



Задание 3. (26.)

Аня надевает футболку с числом 2021 и становится перед зеркалом. Какое из этих изображений она видит в зеркале?

(А) 1202 (Б) 2021 (В) 0212 (Г) 1202 (Д) 1202



Задание 4. (26.)

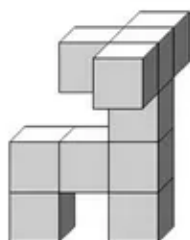
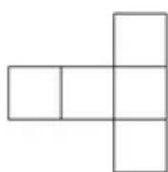
Некоторые дети на картинке смотрят вперед, а другие - назад. Сколько детей держат другого ребенка за левую руку своей правой рукой?



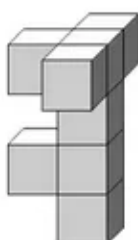
(А) 2 (Б) 3 (В) 4 (Г) 5 (Д) 6

Задание 5. (26.)

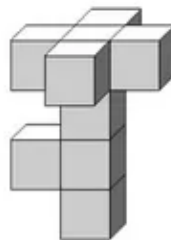
Найди фигуру, имеющую такой вид сверху



А

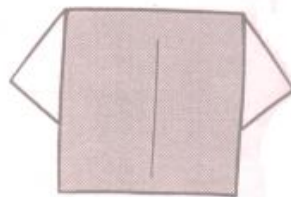
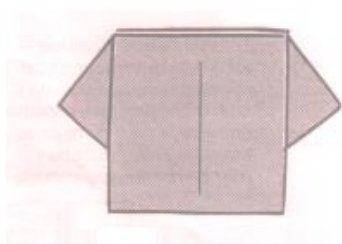



Б





В

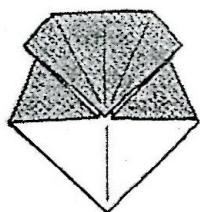
Задание 6. Сложи базовую форму «дверь» и выполни из нее рубашку. (26.)



Задание 7. Нарисуйте в чистом квадрате нужную линию и стрелку, чтобы получить результат. (26.)



Задание 8. На основе базовой формы «воздушный змей» сложите фигуру. (26.)



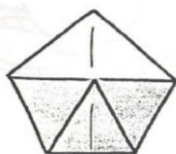
Задание 9. Выбери верный вариант рисунка к заданию: «Сложите базовую форму «воздушный змей» и согните острый угол к прямому углу». (26.)



А



Б



В

Задание 10. (26.)

Выполни чертеж к следующему заданию: «Сложи правый угол к центру квадрата».

